



ワーク

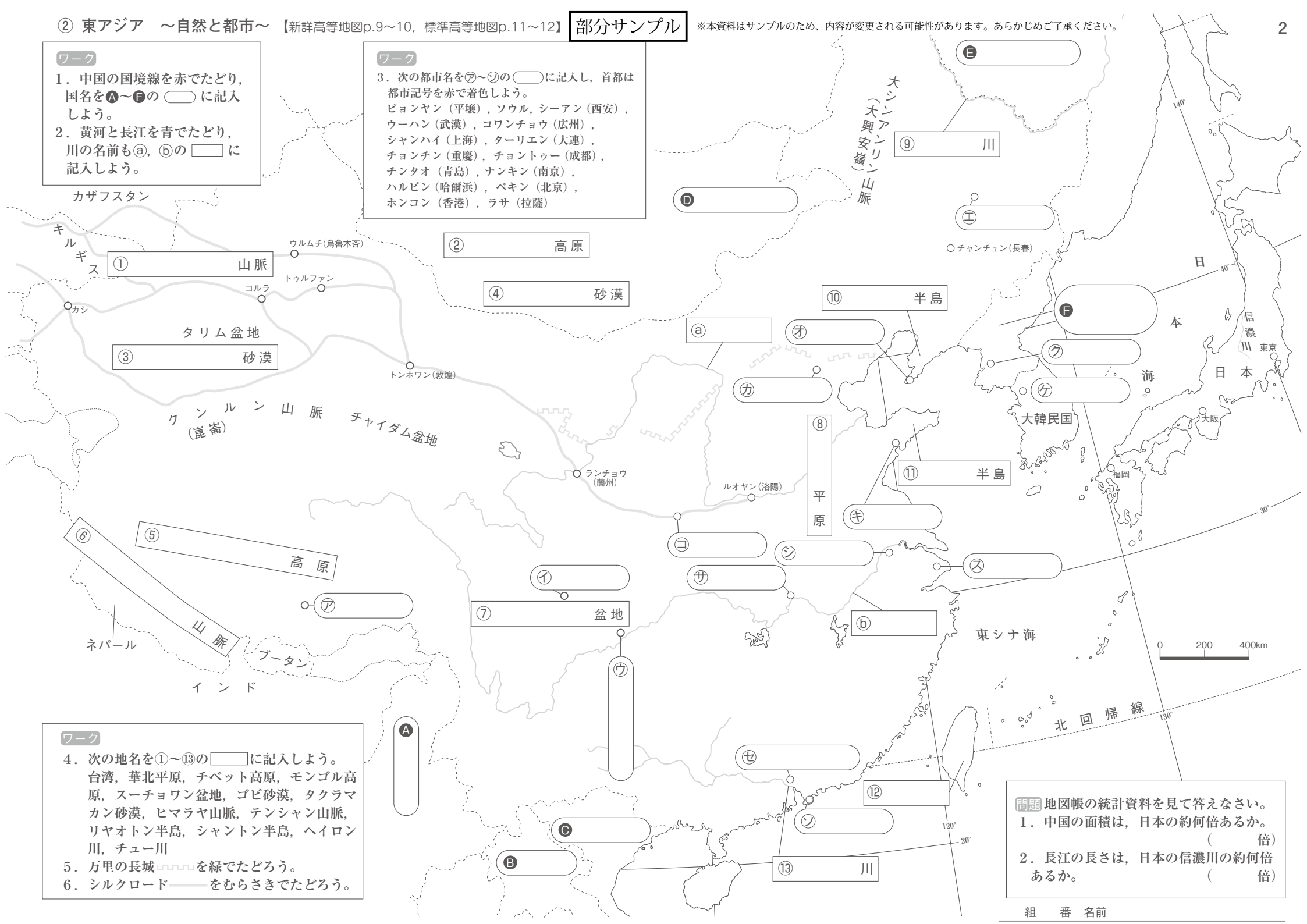
1. 中国の国境線を赤でたどり、国名をA～Fの に記入しよう。
2. 黄河と長江を青でたどり、川の名前もa, bの に記入しよう。

ワーク

3. 次の都市名を㉑～㉓の に記入し、首都は都市記号を赤で着色しよう。
ピョンヤン（平壤）、ソウル、シーアン（西安）、ウーハン（武漢）、コワンチョウ（広州）、シャンハイ（上海）、ターリエン（大連）、チョンチン（重慶）、チョントゥー（成都）、チンタオ（青島）、ナンキン（南京）、ハルビン（哈爾濱）、ペキン（北京）、ホンコン（香港）、ラサ（拉薩）

ワーク

4. 次の地名を①～⑬の に記入しよう。
台湾、華北平原、チベット高原、モンゴル高原、スーチョワン盆地、ゴビ砂漠、タクラマカン砂漠、ヒマラヤ山脈、テンシヤン山脈、リヤオトン半島、シャントン半島、ヘイロン川、チュー川
5. 万里の長城  を緑でたどろう。
6. シルクロード  をむらさきでたどろう。



問題 地図帳の統計資料を見て答えなさい。

1. 中国の面積は、日本の約何倍あるか。
(倍)
2. 長江の長さは、日本の信濃川の約何倍あるか。
(倍)