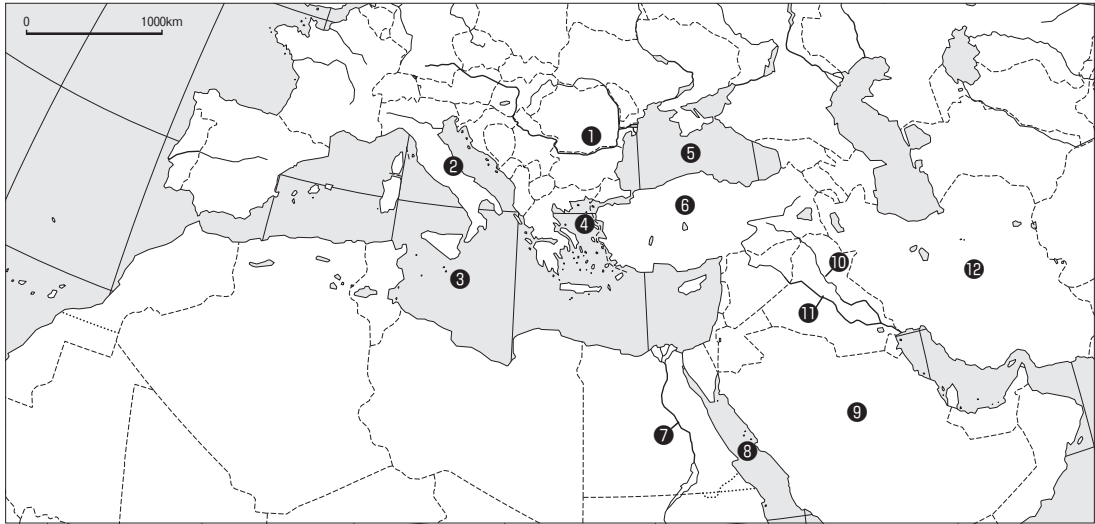


2 オリент世界 / 地中海世界

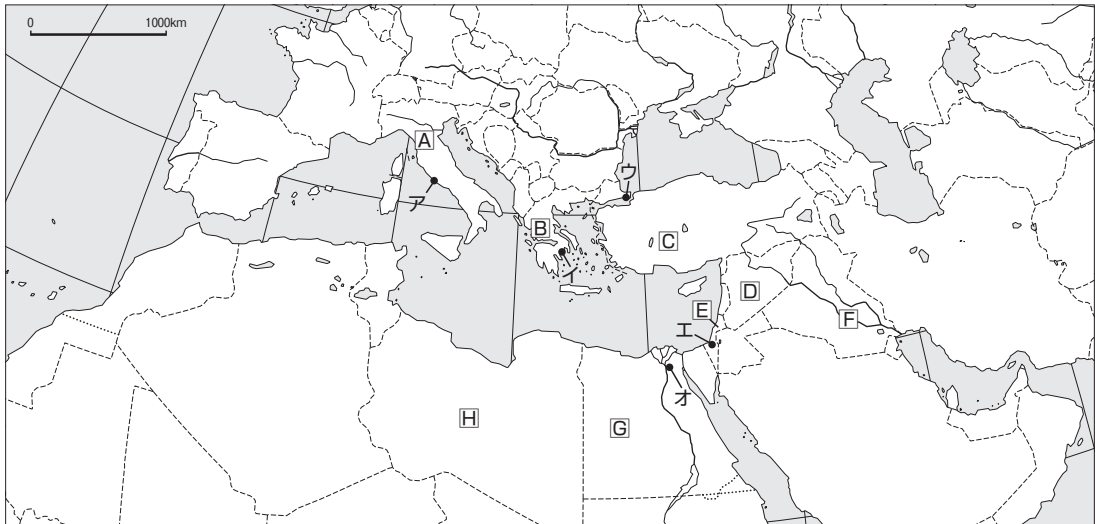
風土 下の①～⑫に該当する自然地域名を記入しよう。【タベストリー p.54,62, エスカリエ p.39,45】



[風土]

①	川	②	半島	③	海	④	海
⑤	海	⑥	高原	⑦	川	⑧	海
⑨	半島	⑩	川	⑪	川	⑫	高原

行政 下の[A]～[H]に該当する国名を，ア～オに該当する都市名を記入しよう。【タベストリー p.54,62,巻末折込, エスカリエ p.2～3】



[国名]

[A]	[B]	[C]	[D]
[E]	[F]	[G]	[H]

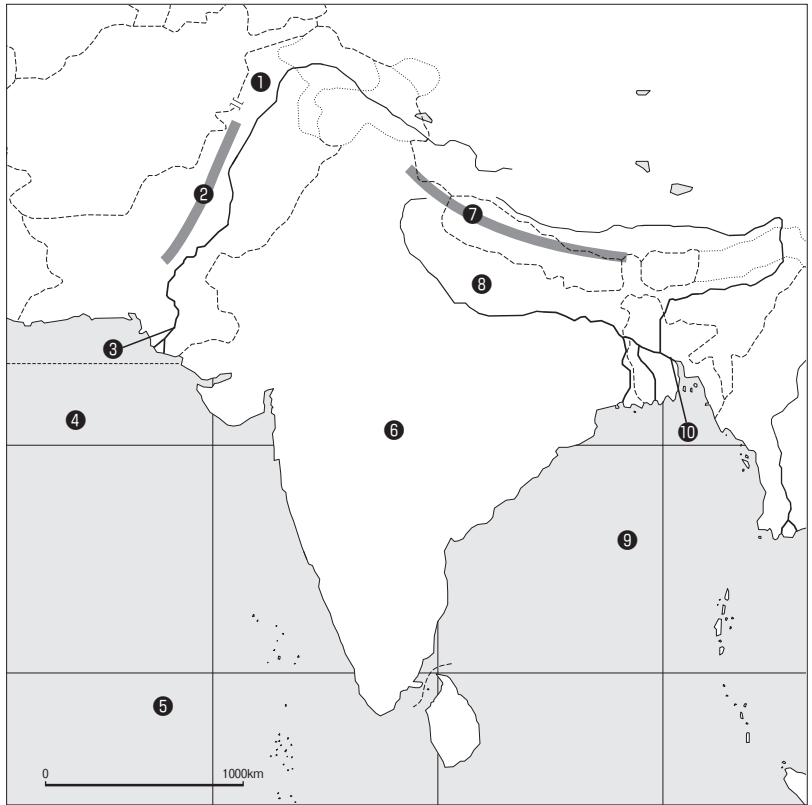
[都市名]

ア	イ	ウ	エ
オ			

南アジア世界

風土 下の①～⑩に該当する自然地域名を記入しよう。【タペストリー p.78, エスカリエ p.59】

①	峠
②	山脈
③	川
④	海
⑤	洋
⑥	高原
⑦	山脈
⑧	平原
⑨	湾
⑩	川



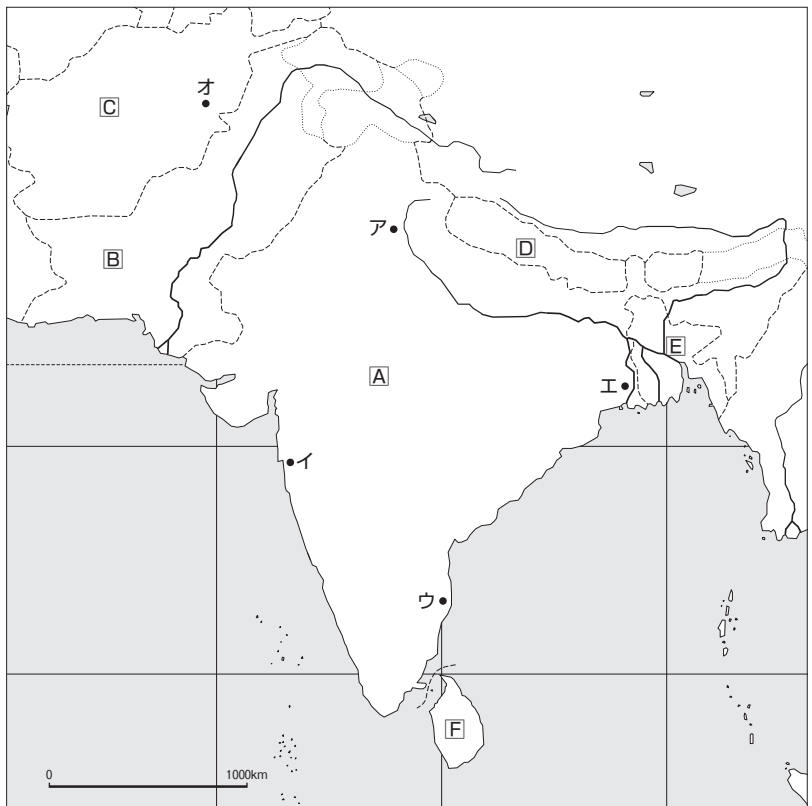
行政 下のA～Fに該当する国名を，ア～オに該当する都市名を記入しよう。【タペストリー p.78,巻末折込, エスカリエ p.2～3】

[国名]

A
B
C
D
E
F

[都市名]

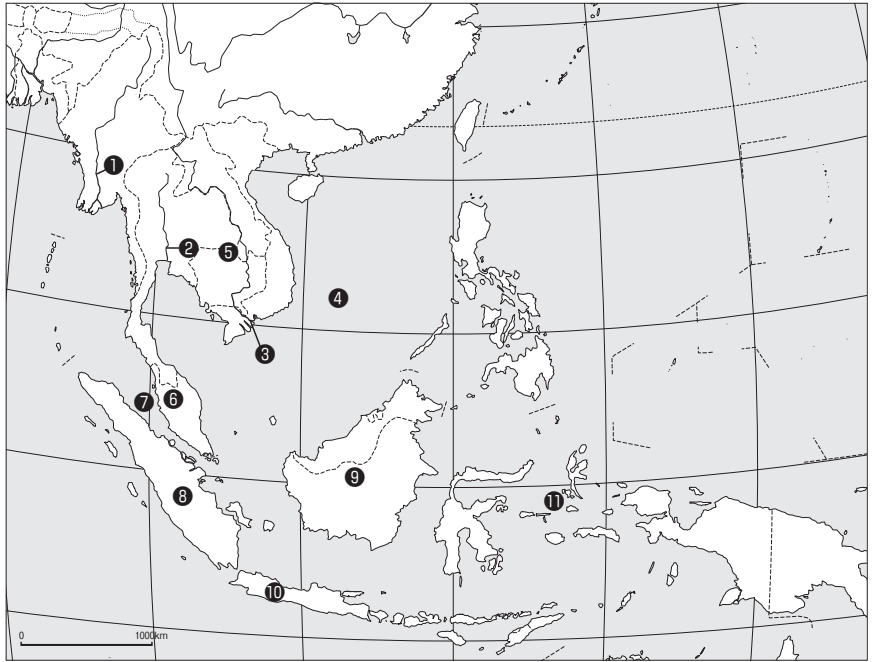
ア
イ
ウ
エ
オ



風土

下の①～⑪に該当する自然地域名を記入しよう。【タペストリー p.82, エスカリエ p.62】

①	川
②	川
③	川
④	海
⑤	半島
⑥	半島
⑦	海峡
⑧	島
⑨	島
⑩	島
⑪	諸島



行政

下のA～Iに該当する国名を、ア～エに該当する都市名を記入しよう。【タペストリー p.82, 巻末折込, エスカリエ p.2～3】

[国名]

A
B
C
D
E
F
G
H
I



[都市名]

ア	イ	ウ	エ
---	---	---	---