

地理的分野 みんなで学ぶシート① 月 日 曜日 2年 組 番 氏名()



第1節 九州地方(教科書 p.171 ~ 186、地図帳 p.83 ~ 88、147 ~ 148)

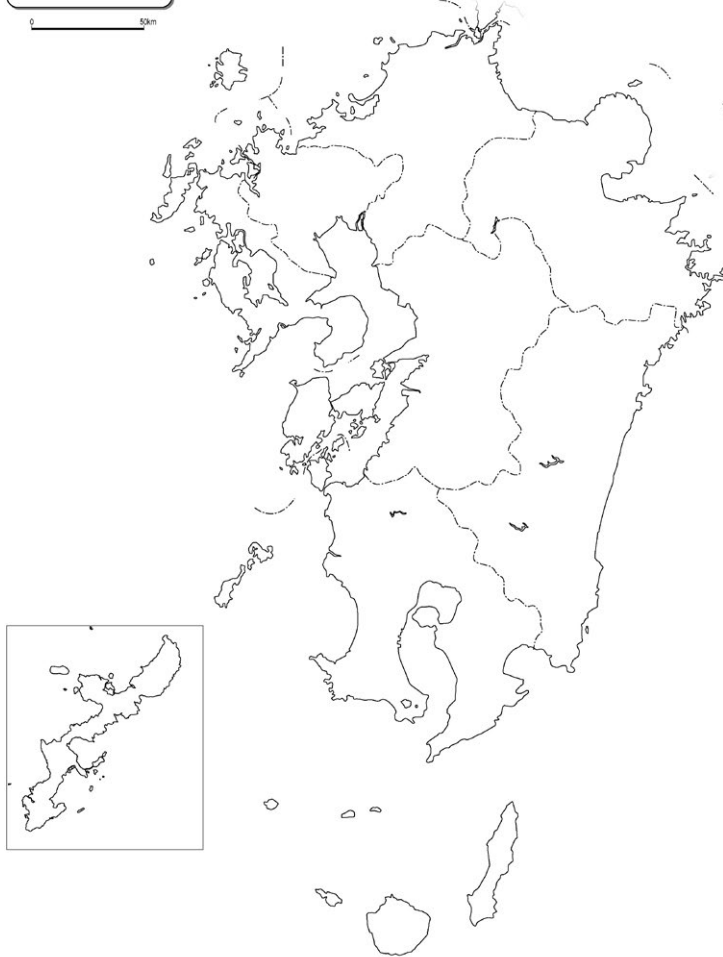
第1節の問い：

今日のめあて：

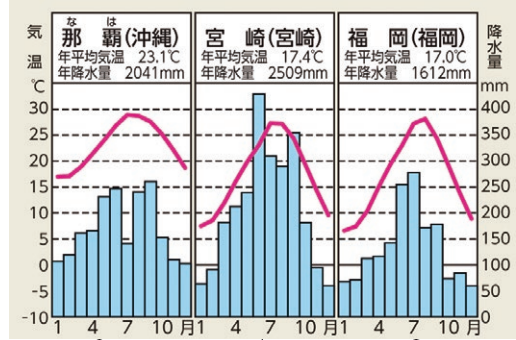
☆レベル1 知る!

- ①白地図に「筑紫山地」「九州山地」「阿蘇山▲」「桜島(御岳)▲」「雲仙岳▲」「筑紫平野」「宮崎平野」「熊本平野」「有明海」「玄界灘」「筑後川」をかきこみ、()【 】にあてはまる語句を調べよう。
- ②白地図に「黒潮」と「対馬海流」が流れている方向を赤色の矢印(➡)で表そう。

九州地方



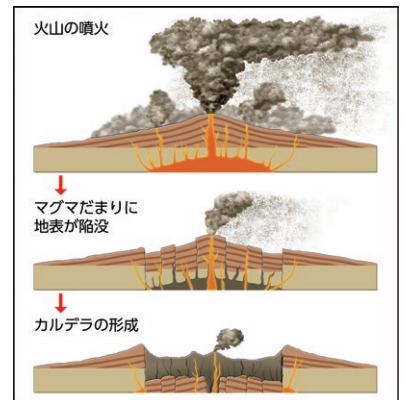
雨温図から気候をこたえよう!



()の気候 ()の気候 ()の気候

カルデラ・・・

【 】
 などによってできた大きくなくぼ地のこと。
 カルデラを縁取る環状の山々を
 【 】
 といい、カルデラに水がたまると
 【 】
 ができます。



カルデラのでき方↑

九州地方はなぜ冬でも温暖なのか、「暖流」という語句を用いて説明してみよう。

Blank space for writing the explanation.



地理的分野 みんなで学ぶシート②

第1節 九州地方(教科書 p.171 ~ 186、地図帳 p.87 ~ 88)

第1節の問い：

今日のめあて：

☆☆レベル2 知る!+わかる!

九州地方の特色を「生活」「農業」「つながり」「工業」「南西諸島の産業や文化・歴史」という5つの面から考えよう。

その際、いずれの面でも、「自然環境」との関わりから説明しよう。

①<九州地方の人々の生活>(教科書 p.176~177)

自然環境の特色	人々の生活への影響・防災への取り組み
<ul style="list-style-type: none"> ・火山が多い ・年中温暖、降水量が多い 	


だから

②<九州地方の農業>(教科書 p.178 ~ 179)


自然環境の特色	農業への影響
<ul style="list-style-type: none"> ・気候が冬でも温暖 ・火山が多い ・福岡など大消費地が近い 	

だから


③<九州地方と他の地方や海外とのつながり>(教科書p.180)

自然環境の特色	他の地方や海外とのつながり
<ul style="list-style-type: none"> ・福岡市とアジアとの距離 ・交通網の発達 	<div style="text-align: center; margin-top: 100px;">  </div>

④<九州地方の工業>(教科書 p.181)

自然環境の特色	工業への影響
<ul style="list-style-type: none"> ・九州地方の資源分布 ・海外と九州の位置関係 	<div style="text-align: center; margin-top: 100px;">  </div>

⑤<南西諸島の産業や文化・歴史>(教科書 p.182 ~ 183)

自然環境の特色	南西諸島の産業や文化・歴史への影響
<ul style="list-style-type: none"> ・1年中温暖な気候 ・台風の通り道 ・美しい自然と独自の文化 ・大陸に近い 	<div style="text-align: center; margin-top: 100px;">  </div>

